

CHAPITRE I

RAISONNEMENT  
PAR RÉCURRENCE



## 1 Assimiler le cours

Partons d'un exemple :

$$8^0 - 1 = 0 = 7 \times 0 \quad 8^1 - 1 = 7 = 7 \times 1 \quad 8^2 - 1 = 63 = 7 \times 9 \quad 8^3 - 1 = 511 = 7 \times 73$$

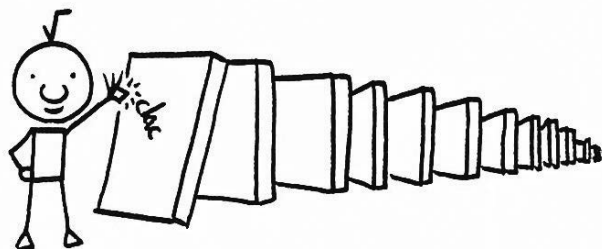
Il apparaît que pour  $n = 0, 1, 2$  ou  $3$ , le nombre  $8^n - 1$  est un multiple de  $7$ .

Mais une constatation sur quelques exemples ne suffit pas à généraliser une propriété. Que dire de  $8^{345} - 1$  ? Est-ce ou non un multiple de  $7$  ? Le calcul dépasse même les capacités de calcul de notre calculatrice. Conclure que  $8^n - 1$  est multiple de  $7$  pour tout entier naturel  $n$  demanderait d'effectuer une infinité de tests, ce qui n'est pas réalisable.

Le raisonnement par récurrence permet de répondre à cette question en seulement quelques étapes, et peut s'apparenter à un chemin de dominos.

Pour faire tomber tous les dominos il suffit que :

- 1- le premier domino tombe (phase d'**initialisation**),
- 2- la chute d'un domino entraîne la chute du suivant (phase d'**hérédité**).



### *Principe du raisonnement par récurrence*

- Soit  $n_0$  un nombre entier naturel et soit  $P_n$  une propriété qui dépend d'un nombre entier naturel  $n$  supérieur ou égal à  $n_0$ .

Si la propriété  $P_n$  vérifie les deux conditions suivantes :

- 1- **Initialisation** :  $P_{n_0}$  est vraie.
- 2- **Hérédité** : Soit  $n$  un entier naturel supérieur ou égal à  $n_0$ .  
On **suppose** que  $P_n$  est vraie, puis avec cette hypothèse de récurrence on **montre** que  $P_{n+1}$  est vraie : la vérité se transmet.

**Alors** pour tout nombre entier naturel  $n \geq n_0$ ,  **$P_n$  est vraie.**

- *Le raisonnement par récurrence suit un schéma très précis et la structure de ce raisonnement est la même tout le temps : il est important de faire figurer sur la map ce circuit.*

- **Étape 1 : Énoncer** clairement la propriété et le **rang**  $n_0$  à partir duquel on compte la démontrer.
- **Étape 2 : Initialisation**  
On vérifie que pour  $n = n_0$  la propriété est vraie.  
La plupart du temps  $n_0 = 0$  ou  $n_0 = 1$ .
- **Étape 3 : Hérité**  
Soit  $n$  un entier naturel supérieur à  $n_0$  et supposons que la propriété  $P_n$  soit vraie au rang  $n$ . Il s'agit alors de démontrer que la vérité va se transmettre au rang  $n+1$  et donc que  $P_{n+1}$  est vraie aussi.
- **Étape 4 : Conclusion**  
Pour tout entier naturel  $n$  supérieur ou égal à  $n_0$ ,  $P_n$  est vraie.

- *Lorsque l'énoncé précise que  $n$  est un entier naturel, cela sous-entend que le premier rang  $n_0$  est 0.*
- *S'il précise que  $n$  est un entier naturel non nul, alors  $n_0 = 1$ .*
- *La phase d'hérité est la plus délicate. Pour montrer que la vérité se transmet d'un rang au suivant, il s'agit de démontrer l'implication :  $P_n$  vraie  $\Rightarrow P_{n+1}$  vraie.  
Il s'agit alors de trouver un lien pour passer de  $P_n$  à  $P_{n+1}$ .*
- *Commencer par écrire clairement la propriété  $P_n$  que l'on suppose vraie, puis écrire clairement  $P_{n+1}$  que l'on cherche à établir.*
- *Si on doit démontrer une inégalité, on peut penser à étudier le signe de la différence.*
- *Si on doit démontrer une égalité, on peut partir de l'un des membres pour arriver au deuxième, ou montrer que la différence vaut zéro.*

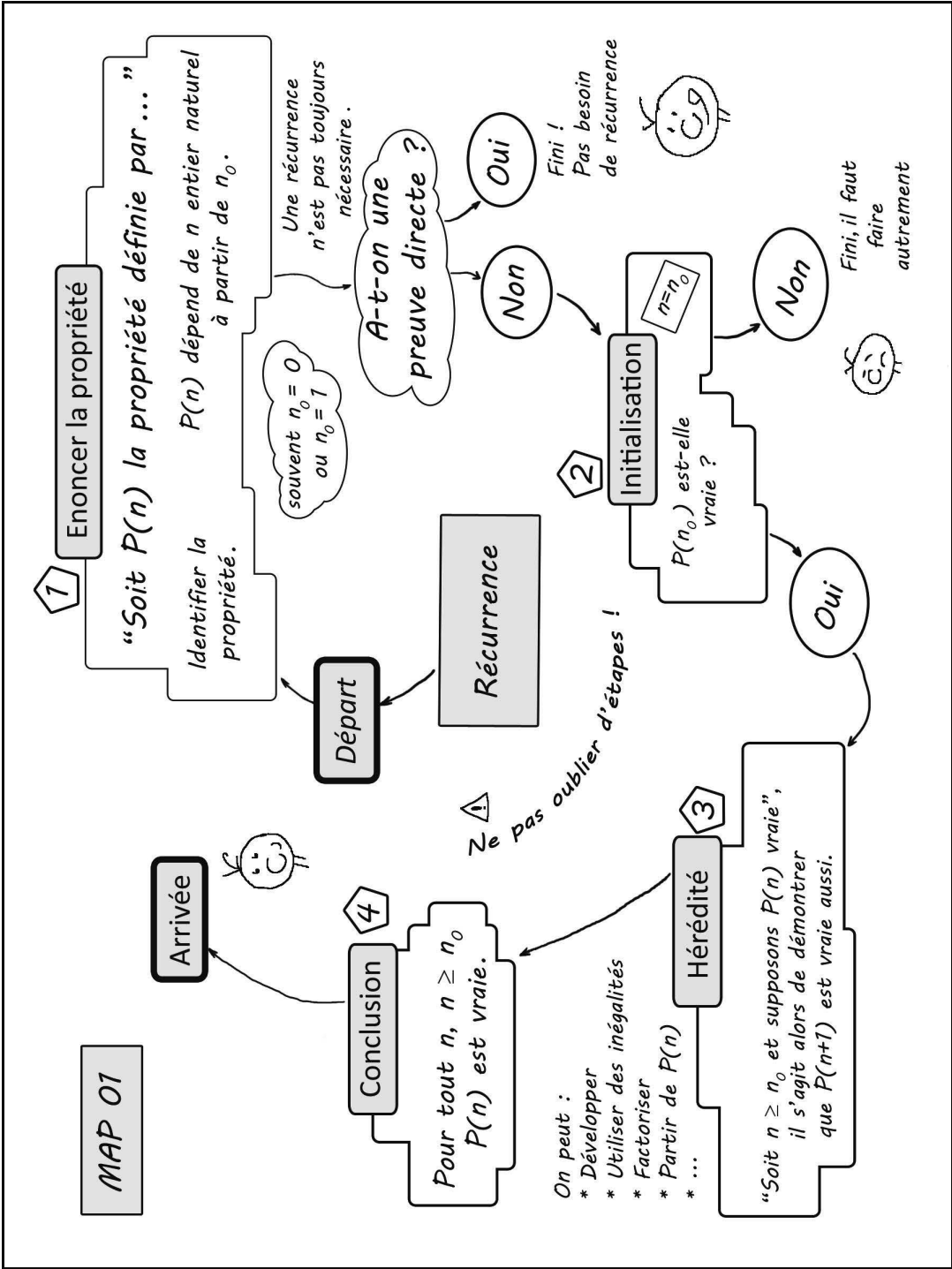
## 2 Réaliser la carte mentale

Pour réaliser cette carte mentale, il faut commencer par placer au centre de la page le titre **Récurrence**.

Le raisonnement par récurrence est composé d'étapes clairement identifiées. La map sera donc réalisée sous la forme d'un circuit, d'un chemin, que l'on pourra ensuite parcourir mentalement pour établir le raisonnement.

Il faudra aussi compléter la map au fur et à mesure de l'année par des mots ou des dessins rencontrés dans le cadre du thème qui seront autant de balises de réactivation. Les différentes étapes du chemin seront ainsi ancrées dans notre mémoire.

Par exemple, on peut rajouter les différentes idées qui permettent de démontrer l'hérédité, selon qu'il s'agit d'une inégalité, d'une égalité, etc.



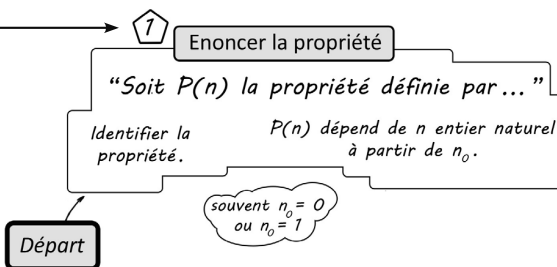
### 3 S'entraîner : retour sur l'exemple

Montrer que pour tout entier naturel  $n$ ,  
le nombre  $A_n = 8^n - 1$  est multiple de 7.

*Je visualise sur la map le circuit.*

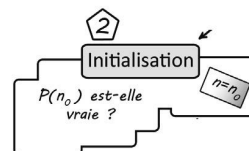
#### Étape 1 : Énoncer la propriété

Soit  $P_n$  la propriété définie pour  $n$  entier naturel par  
«  $8^n - 1$  est multiple de 7 ».



#### Étape 2 : Initialisation

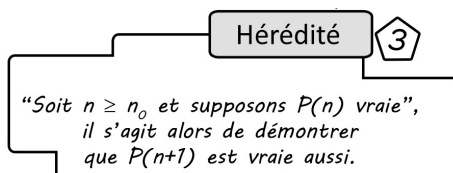
$n = 0$  : on calcule  $8^0 - 1 = 0$ .  
Donc 0 est bien un multiple de 7 et  
 $P_0$  est vraie.



*Ici  $n_0 = 0$  car la propriété doit être vérifiée pour tous les entiers naturels, on commence donc à 0.*

#### Étape 3 : Hérédité

Soit  $n \in \mathbb{N}$  et **supposons**  $P_n$  vraie, c'est-à-dire  
supposons qu'il existe un entier  $k$  tel que  
 $8^n - 1 = 7k$ , et donc  $8^n = 7k + 1$ .  
Il s'agit alors de démontrer que  $8^{n+1} - 1$  est  
aussi un multiple de 7.



$$8^{n+1} = 8 \times 8^n$$

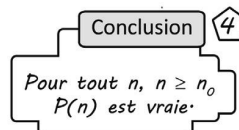
$$\begin{aligned} \text{On a : } 8^{n+1} - 1 &= 8 \times 8^n - 1 \\ &= 8 \times (7k + 1) - 1 \\ &= 8 \times 7k + 8 - 1 \\ &= 7 \times (8k + 1) \end{aligned}$$

*Je pars du membre de gauche et j'utilise l'hypothèse de récurrence pour montrer que la vérité se transmet.*

Or  $8k + 1$  est un entier, donc  $P_{n+1}$  est vraie également.

#### Étape 4 : Conclusion

Pour tout  $n$  entier naturel,  $P_n$  est vraie.



## 4 Des exercices

**Exercice 1.1.** Démontrer que pour tout entier naturel  $n$  non nul,

$$1 + 2 + \dots + n = \frac{n(n+1)}{2}.$$

**Exercice 1.2.** Démontrer que pour tout entier naturel  $n$  supérieur ou égal à 3,  $2^n > 2n$ .

**Exercice 1.3.** Démontrer que pour tout entier naturel  $n$  supérieur ou égal à 1,

$$1 \times 2 + 2 \times 3 + \dots + n \times (n + 1) = \frac{n(n+1)(n+2)}{3}.$$

**Exercice 1.4.** Démontrer que pour tout entier  $n \geq 2$ ,  $5^n \geq 4^n + 3n$ .

**Exercice 1.5.** Démontrer que pour tout entier  $n \geq 4$ ,  $2^n \geq n^2$ .

**Exercice 1.6.** Démontrer que pour tout entier  $n \geq 2$ ,  $3n^2 \geq (n + 1)^2$ .

**Exercice 1.7.** Démontrer que pour tout entier naturel  $n$ ,  $4^n + 5$  est un multiple de 3.

**Exercice 1.8.** On considère la suite  $(u_n)$  définie par  $u_1 = 1$  et pour  $n$  entier naturel non nul,  $u_{n+1} = 2u_n + 1$ . Démontrer que pour tout  $n$  entier naturel non nul,  $u_n = 2^n - 1$ .

**Exercice 1.9.** On considère la suite  $(u_n)$  définie par  $u_0 = 1$  et pour  $n$  entier naturel,  $u_{n+1} = 0,2u_n + 4$ . Démontrer que pour tout  $n$  entier naturel,  $u_n \leq 5$ .

**Exercice 1.10.** On considère la suite  $(u_n)$  définie par  $u_0 = 2$  et pour  $n$  entier naturel,  $u_{n+1} = 1 + \frac{1}{u_n}$ . Démontrer que pour tout  $n$  entier naturel,  $\frac{3}{2} \leq u_n \leq 2$ .

**Exercice 1.11.** (D'après Bac S, centres étrangers, juin 2016)

On considère la fonction  $g$  définie pour tout réel  $x$  de  $[0 ; 1]$  par  $g(x) = \frac{x^3}{4} + \frac{3}{8}$  et la suite  $(u_n)$  définie par :  $u_0 = 0$  et, pour tout entier naturel  $n$ ,  $u_{n+1} = g(u_n)$ .

1. Calculer  $u_1$ .
2. Démontrer que la fonction  $g$  est croissante sur l'intervalle  $[0 ; 1]$ .
3. Démontrer par récurrence que, pour tout entier naturel  $n$ , on a :  $0 \leq u_n \leq u_{n+1} \leq 1$ .

**Exercice 1.12.** (D'après Bac S, Asie, juin 2016)

On modélise l'évolution d'une population de bactéries dans une cuve par la suite  $(u_n)$  définie par  $u_0 = 1000$  et, pour tout entier naturel  $n$ ,  $u_{n+1} = 1,2u_n - 100$ .

Démontrer par récurrence que pour tout entier naturel  $n$ ,  $u_n \geq 1000$ .

**Exercice 1.13.** (D'après Bac S, Amérique du sud, novembre 2016)

La suite  $(u_n)$  est définie par :

$$u_0 = 0 \text{ et pour tout entier naturel } n, u_{n+1} = \frac{1}{2 - u_n}.$$

1. À l'aide du calcul des premiers termes de la suite  $(u_n)$ , conjecturer la forme explicite de  $u_n$  en fonction de  $n$ .
2. Démontrer cette conjecture.

**Exercice 1.14.** (D'après Bac S, Pondichéry, avril 2015)

La suite  $(h_n)$  est définie par :  $h_0 = 80$  et pour tout entier naturel  $n$ ,  $h_{n+1} = 0,75h_n + 30$ .

1. À l'aide de la calculatrice, conjecturer le sens de variation de la suite  $(h_n)$ .
2. Démontrer cette conjecture, à l'aide d'un raisonnement par récurrence.

**Exercice 1.15.** (D'après Bac S, Amérique du nord, mai 2013)

On considère la suite  $(u_n)$  définie par  $u_0 = 1$  et, pour tout entier naturel  $n$ ,  $u_{n+1} = \sqrt{2u_n}$ .

Démontrer que, pour tout entier naturel  $n$ ,  $0 < u_n \leq 2$ .

**Exercice 1.16.** (D'après Bac S, métropole, septembre 2013)

On considère la suite  $(u_n)$  définie par :

$$u_0 = 2 \text{ et pour tout entier naturel } n, u_{n+1} = \frac{u_n + 2}{2u_n + 1}.$$

On admet que pour tout entier naturel  $n$ ,  $u_n > 0$ .

1. Calculer  $u_1, u_2, u_3, u_4$ . On pourra en donner une valeur approchée à  $10^{-2}$  près.
2. Vérifier que si  $n$  est l'un des entiers 0, 1, 2, 3, 4 alors  $u_n - 1$  a le même signe que  $(-1)^n$ .
3. Établir que pour tout entier naturel  $n$ ,  $u_{n+1} - 1 = \frac{-u_n + 1}{2u_n + 1}$ .
4. Démontrer par récurrence que pour tout entier naturel  $n$ ,  $u_n - 1$  a le même signe que  $(-1)^n$ .