

1. Fonctions

1. Images et antécédents

Soit f la fonction définie par son expression $f(x) = 3x^2 - 6$

Pour obtenir l'**image** de 5 par f , soit $f(5)$, on remplace x par 5 dans l'expression :

$$f(5) = 3 \times 5^2 - 6 = 3 \times 25 - 6 = 75 - 6 = 69 ; 69 \text{ est l'image de } 5 \text{ par } f.$$

$$f(-2) = 3 \times (-2)^2 - 6 = 3 \times 4 - 6 = 12 - 6 = 6 ; 6 \text{ est l'image de } -2 \text{ par } f.$$

Question 1

Détermine les images de -4 , de 1 et de $\frac{2}{3}$ par la même fonction f .

$$\text{✎ } f(-4) = \underline{\hspace{10cm}}$$

$$f(1) = \underline{\hspace{10cm}}$$

$$f\left(\frac{2}{3}\right) = \underline{\hspace{10cm}}$$

Question 2

g est définie par : $g(x) = \frac{2x-1}{3x+1}$; détermine l'image de $\frac{3}{4}$.

$$\text{✎ } g\left(\frac{3}{4}\right) = \underline{\hspace{10cm}}$$

$$\underline{\hspace{10cm}}$$

Question 3

Montre que les nombres opposés a et $-a$ ont la même image par f .

 $f(a) =$ _____

$f(-a) =$ _____

$f(2) = 3 \times 2^2 - 6 = 3 \times 4 - 6 = 12 - 6 = 6$; 6 est l'image de 2 par f .
2 et -2 ont la même image : 6 ; on dit que 2 et -2 sont des **antécédents** de 6.
Les antécédents du nombre 6 sont les nombres x tels que $f(x) = 6$.
Pour les déterminer, on résout l'équation : $f(x) = 6$.

Question 4

Montre que les seuls antécédents de 6 par f sont -2 et 2.

 _____

Question 5

Détermine, s'ils existent, les antécédents de 4, -10 et -6 par f .

 _____

Question 6

$g(x) = \frac{2x-1}{3x+1}$. Détermine s'ils existent les antécédents de 1 , $\frac{2}{3}$, $\frac{2}{5}$.



2. Courbe représentative d'une fonction

Soit f la fonction définie par son expression : $f(x) = 3x^2 - 6$.

Sa **courbe représentative** C dans un repère R du plan est l'ensemble des points de coordonnées $(x ; f(x))$; l'ordonnée de ces points est l'image de leur abscisse.

Pour la tracer, on donne des valeurs à x et on calcule les images de ces valeurs.

Question 7

Complète les tableaux de valeurs suivants :

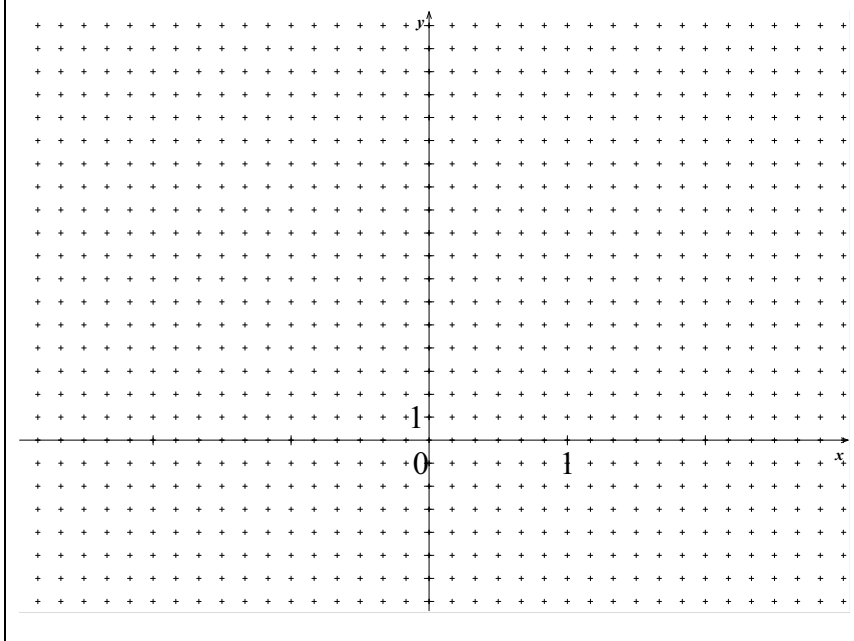


x	0	0,5	1	1,5	2	2,5
$f(x)$						

x	-2,5	-2	-1,5	-1	-0,5
$f(x)$					

► Question 8

Trace soigneusement C en utilisant le repère ci-après ; trace-la également sur ta calculatrice.



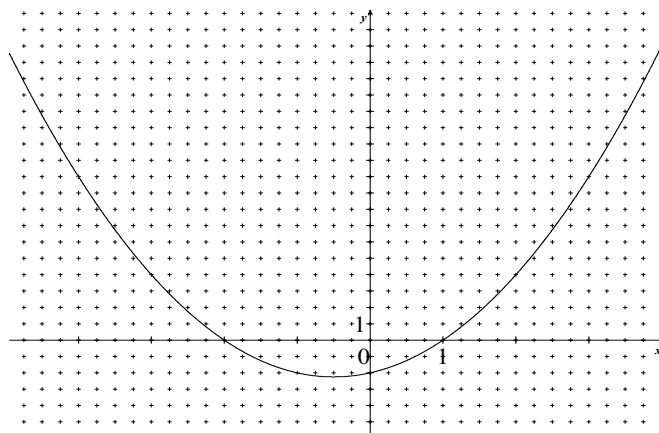
Un point M de coordonnées $(x ; y)$ appartient à la courbe C si et seulement si :
 $y = f(x)$, autrement dit, si son ordonnée est l'image par f de son abscisse.

Ainsi le point $M(4 ; 42)$ appartient à C car $f(4) = 3 \times 4^2 - 6 = 3 \times 16 - 6 = 42$,
alors que $N(-3 ; 20)$ n'appartient pas à C car $f(-3) = 3 \times (-3)^2 - 6 = 21 \neq 20$.

► Question 9

Les points suivants appartiennent-ils à C :
 $A(5 ; 69)$; $B(-9 ; -237)$; $E(11 ; 357)$; $F(-7 ; 141)$?





Voici la courbe représentative d'une fonction h .

Pour déterminer graphiquement l'image approximative de 2 :

- A partir du point de coordonnées $(2 ; 0)$ on mène la parallèle d à l'axe des y .
- La droite d coupe la courbe en un point M .
- Par M on mène la parallèle D à l'axe des x : D coupe l'axe des y au point d'ordonnée $h(2)$.

Question 10

En utilisant la courbe Γ ci-dessus de la fonction h , détermine graphiquement les images par h de 2, de -3 et de 3,5.



Pour déterminer graphiquement les antécédents approximatifs de 5 :

- A partir du point de coordonnées $(0 ; 5)$ on mène la parallèle D à l'axe des x .
- La droite D coupe la courbe en deux points N et N' .
- Par N et N' , on mène les parallèles d et d' à l'axe des y : elles coupent l'axe des x en 2 points dont les abscisses sont les antécédents de 5.

Question 11

Détermine graphiquement les antécédents de 10 par h .



3. Ensemble de définition d'une fonction

L'ensemble de définition D_f d'une fonction f est l'ensemble des valeurs de x pour lesquelles le calcul de $f(x)$ est possible.

Ainsi pour $f(x) = \sqrt{x}$, $D_f = [0 ; +\infty[$, car \sqrt{x} n'existe que si $x \geq 0$.

Pour $f(x) = \frac{x-1}{x-3}$, $D_f = \mathbb{R} \setminus \{3\}$, car le dénominateur n'a pas le droit d'être nul.

Les seuls problèmes qu'on rencontrera pour l'instant sont :

- les quotients : ils ne sont définis que si leur dénominateur est différent de 0.
- les radicaux $\sqrt{g(x)}$: ils ne sont définis que si $g(x) \geq 0$.

► Question 12

Détermine les ensembles de définition des fonctions suivantes :

$$f(x) = \sqrt{x-1} ; \quad g(x) = \frac{2}{3x+1} ; \quad h(x) = \frac{x}{x^2-1}.$$



► Question 13

Détermine les ensembles de définition des fonctions suivantes :

$$f(x) = \sqrt{x} + \sqrt{4-2x} ; \quad g(x) = \frac{2x-5}{5x} ; \quad h(x) = \frac{2x-4}{x^2+1}.$$



4. Ensemble de définition en géométrie

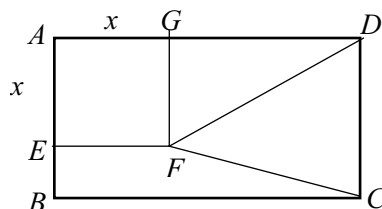
En géométrie, l'ensemble de définition est souvent limité par la figure.

Rappels : L'aire d'un triangle est égale à : $\frac{\text{base} \times \text{hauteur}}{2}$.

L'aire d'un trapèze est égale à : $\frac{(\text{petite base} + \text{grande base}) \times \text{hauteur}}{2}$.

Question 14

$ABCD$ est un rectangle tel que $AB = 2$ et $BC = 4$.



E est un point de $[AB]$ et on pose $AE = x$; $AEFG$ est le carré tel que $G \in [AD]$.

Calcule les aires $f(x)$ et $g(x)$ des triangles FGD et DFC et l'aire $h(x)$ du trapèze $GFCD$.

Quel est l'ensemble de définition de ces fonctions ?

 $f(x) =$ _____

$g(x) =$ _____

$h(x) =$ _____

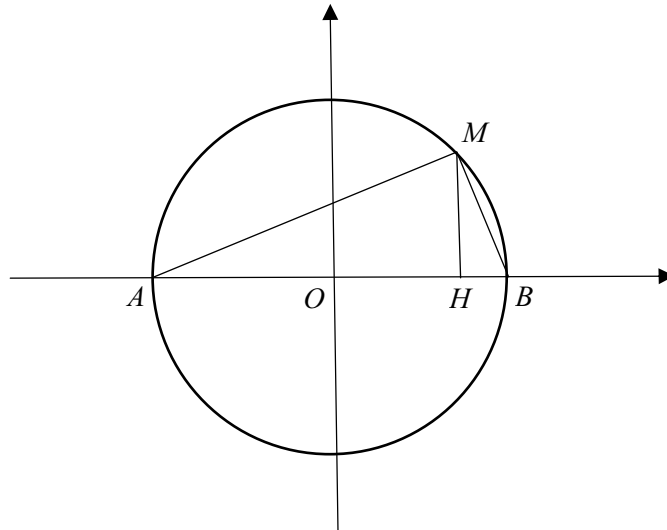
$D_f =$ _____ $D_g =$ _____ $D_h =$ _____

Théorème de Pythagore

Si ABC est un triangle rectangle en A , $AB^2 + AC^2 = BC^2$.

► Question 15

(O, \vec{i}, \vec{j}) est un repère orthonormé du plan ; soit $A(-4 ; 0)$ et $B(4 ; 0)$.
(C) est le cercle de diamètre $[AB]$. Le point $M(x ; y)$ tel que $x > 0$ appartient au cercle (C) et H est sa projection orthogonale sur $[AB]$.



On suppose $y > 0$.

A l'aide du théorème de Pythagore, calcule MH en fonction de x .

Calcule l'aire $f(x)$ du triangle AMB en fonction de x .

Quel est l'ensemble de définition de f ?

